


How many piggy banks of each color can you find in the 5 pictures?

Combien de tirelires de chaque couleur peux-tu trouver dans chacune des 5 illustrations?








Solution:



5 5 3

How much money is there in 3 red piggy banks?

Combien d'argent se trouve dans 3 tirelires rouges?



## Three Little Piggy Banks

Teaching children the basic principles of personal financial management

Enseigne aux enfants les principes de base de la gestion financière personnelle

Solution:  
Total: 9



DC Canada Education Publishing  
[www.dc-canada.ca](http://www.dc-canada.ca)

Guess how much money there is in the Savings piggy bank.

Devine combien d'argent il y a dans la banque d'épargne.

**Ella and Andy are twins.**

**For their birthday, they each receive twenty dollars and three piggy banks from their parents. One is called Saving, one is called Sharing and one is called Spending.**

**Ella...**

- Puts \$5 in her Sharing bank.
- Puts \$5 in her Spending piggy bank.
- Gives \$1 to a vagrant.
- Spends \$3 on a book.
- Puts her money left into her Savings bank.

**How much money is in her Savings bank?**

**Andy...**

- Puts \$7 in his Savings bank.
- Spends \$5 on a movie poster.
- Puts \$4 in his Sharing bank.
- Gives \$2 to his friend so he can take the bus.
- Puts all his money left in his Savings bank.

**How much money is in his Savings bank?**

**Ella et Andy son jumeaux.**

**Pour leur anniversaire, ils reçoivent chacun vingt dollars et trois tirelires de leurs parents. Une des tirelires s'appelle Épargne, une autre s'appelle Partage et l'autre s'appelle Dépenses.**

**Ella...**

- Met 5\$ dans sa banque de partage.
- Met 10\$ dans sa banque de dépense.
- Donne 1\$ à une personne itinérante.
- Dépense 3\$ pour un livre.
- Met tout ce qui lui reste dans sa banque d'épargne

**Combien reste-t-il dans sa banque d'épargne?**

**Andy...**

- Met 7\$ dans sa banque d'épargne.
- Dépense 5\$ pour une affiche de film.
- Puts 4\$ dans sa banque de partage.
- Donne 2\$ à son ami pour l'autobus.
- Met tout ce qui lui reste dans sa banque d'épargne

**Combien reste-t-il dans sa banque d'épargne?**



Solution:

Ella: 11 Andy: 9